

सामान्य ज्ञान

1. राजस्थान राज्य की मुख्य फसल है -
(1) ज्वार (2) चावल (3) बाजरा (4) गेहूँ (3)
2. खानवा के युद्ध में कौन पराजित हुआ?
(1) महाराणा प्रताप (2) महाराणा कुंभा
(3) महाराणा सांगा (4) इनमें से कोई नहीं (3)
3. राजस्थान में छप्पनिया अकाल किस वर्ष पड़ा?
(1) 1956 शक संवत् (2) 1956 ई.
(3) 1956 वि. सं. (4) इनमें से कोई नहीं (3)
4. राजस्थान राज्य के किस जिले की सीमा मध्यप्रदेश से नहीं मिलती?
(1) कोटा (2) करौली (3) धौलपुर (4) जयपुर (4)
5. नमदे बनाने के लिए कौनसा जिला प्रसिद्ध है?
(1) बीकानेर (2) उदयपुर
(3) जयपुर (4) कोटा (1)
6. मैंगनीज बहुतायात से पाया जाता है -
(1) अजमेर में (2) बाँसवाड़ा में
(3) उदयपुर में (4) जयपुर में (2)
7. राजस्थान के किस मुख्यमंत्री का कार्यकाल सबसे अधिक लम्बा था?
(1) अशोक गहलोत (2) वसुंधरा राजे
(3) मोहनलाल सुखाड़िया (4) भैरोसिंह शेखावत (3)
8. दर्रा वन्य जीव अभयारण्य किस जिले में स्थित है?
(1) सीकर (2) चुरू
(3) कोटा (4) करौली (3)
9. गुलाबो किस क्षेत्र में प्रसिद्ध है?
(1) नृत्य (2) फिल्म
(3) नौटंकी (4) इनमें से कोई नहीं (1)
10. राजस्थान का प्रवेश द्वार किसे कहा जाता है?
(1) भरतपुर (2) उदयपुर
(3) झालावाड़ (4) बाड़मेर (1)
11. राजस्थान का राज्य पक्षी कौनसा है?
(1) गोडावण (2) मोर
(3) चिड़िया (4) कवृतर (1)
12. तिमनगढ़ का किला स्थित है -
(1) धौलपुर (2) जयपुर
(3) सीकर (4) करौली (4)
13. लोकसभा चुनाव 2009 में सचिन पायलट किस स्थान सांसद बने?
(1) अजमेर (2) जयपुर (3) बाड़मेर (4) दौसा (1)
14. विजिलिया आंदोलन किसने शुरू किया?
(1) मोतीलाल तेजावत (2) विजय सिंह पांथक
(3) सागरमल गोपा (4) इनमें से कोई नहीं (2)
15. राजस्थान में नमक उत्पादन के लिए कौनसी झील प्रसिद्ध है?
(1) सांभर (2) नवकी
(3) जयममंद (4) फायसागर (1)
16. बीसलपुर किस जिले में स्थित है?
(1) जोधपुर (2) टोंक
(3) अजमेर (4) इनमें से कोई नहीं (2)
17. महाराणा प्रताप की मृत्यु कहाँ हुई?
(1) चित्तौड़गढ़ (2) ओसियां
(3) चावंड (4) हल्दीवाटी (3)
18. राजस्थान में जनसंख्या का सबसे कम घनत्व किस जिले में है?
(1) झुंजारपुर (2) बाँसवाड़ा
(3) जैसलमेर (4) जालौर (3)
19. मत्स्य राज्य की राजधानी थी -
(1) भरतपुर (2) अलवर
(3) करौली (4) धौलपुर (2)
20. राजस्थान का तकनीकी विश्वविद्यालय कहाँ स्थित है?
(1) सीकर (2) झुंझुनू
(3) कोटा (4) जोधपुर (3)
21. राजस्थान की कौनसी जन-जाति पूर्वी भाग में अधिक पायी जाती है?
(1) मोणा (2) भौल
(3) गरासिया (4) सहारिया (1)
22. राज्य की कौनसी नदी यमुना में मिलती है?
(1) बाणगंगा (2) जवाई
(3) लूनी (4) उक्त कोई नहीं (1)
23. कालीबंगा सभ्यता किस नदी के समीप विकसित हुई?
(1) सरस्वती (2) गंगा
(3) चम्बल (4) उक्त कोई नहीं (1)

24. राज्य का कौनसा क्षेत्र डांग क्षेत्र के रूप में जाना जाता है?
 (1) टोंक - भीलवाड़ा (2) करौली-धौलपुर
 (3) बाड़मेर-जैसलमेर (4) जयपुर-अजमेर (2)
25. बौद्ध मंदिर के स्मारक किस स्थान पर स्थित हैं?
 (1) आबू (2) अजमेर
 (3) बैराठ (4) जोधपुर (3)
26. बीकानेर रियासत की कुलदेवी थी -
 (1) करणी माता (2) अम्बा माता
 (3) शिला माता (4) कैला देवी (1)
27. सहेलियों की बाड़ी स्थित है-
 (1) जयपुर (2) चित्तौड़गढ़
 (3) उदयपुर (4) नागौर (3)
28. राजस्थान का सबसे कम साक्षर जिला कौनसा है?
 (1) सीकर (2) बाँसवाड़ा
 (3) बाड़मेर (4) उक्त कोई नहीं (2)
29. वेड़च नदी का दूसरा नाम है -
 (1) लूनी (2) बनास
 (3) आयड़ (4) चम्बल (3)
30. राजस्थान के वर्तमान गृहमंत्री हैं -
 (1) शांति धारीवाल (2) अशोक गहलोत
 (3) गुलाबचंद कटारिया (4) दीपेन्द्र सिंह शेखावत (1)
31. राजस्थान में व्यापक मात्रा में किन्तु कहाँ पैदा किया जाता है?
 (1) गंगानगर (2) हनुमानगढ़
 (3) अजमेर (4) सीकर (1)
32. राजस्थान विधान सभा में कितने सदस्य निर्वाचित होते हैं?
 (1) 120 (2) 200 (3) 250 (4) 110 (2)
33. प्रसिद्ध शीतला माता मेला कहाँ भरता है?
 (1) नोखा (2) मेड़ता
 (3) तिलवाड़ा (4) चाकसू (4)
34. तारागढ़ दुर्ग किस जिले में स्थित है?
 (1) अजमेर (2) बाड़मेर
 (3) करौली (4) बीकानेर (1)
35. केवलादेव घना राष्ट्रीय पक्षी अभयारण्य किस जिले में स्थित है?
 (1) करौली (2) उदयपुर
 (3) भरतपुर (4) इनमें से कोई नहीं (3)
36. जौहर मेला कहाँ भरता है?
 (1) जयपुर (2) चित्तौड़गढ़
 (3) भीलवाड़ा (4) इनमें से कोई नहीं (2)
37. झुन्झुनू जिला किस धातु के लिए प्रसिद्ध है?
 (1) सोना (2) ताँबा
 (3) कोयला (4) लोहा (2)
38. ब्रह्मा मंदिर कहाँ स्थित है?
 (1) पुष्कर (2) मेड़ता
 (3) सालासर (4) नाथद्वारा (1)
39. डबोक हवाई अड्डा कहाँ स्थित है?
 (1) अजमेर (2) जयपुर
 (3) उदयपुर (4) कोटा (3)
40. राजस्थान में राज्य सभा में कुल कितने सदस्य निर्वाचित होते हैं?
 (1) 20 (2) 25 (3) 10 (4) 15 (3)
41. मृग संरक्षण के लिए कौनसी जाति प्रसिद्ध है?
 (1) राजपूत (2) विशनोई
 (3) गुर्जर (4) इनमें से कोई नहीं (2)
42. किस जिले की सीमा उत्तरप्रदेश राज्य से मिलती है?
 (1) करौली (2) भरतपुर
 (3) जयपुर (4) कोटा (2)
43. नक्की झील कहाँ स्थित है?
 (1) अजमेर (2) माउंट आबू
 (3) भरतपुर (4) उदयपुर (2)
44. हिन्दुस्तान जिंक प्लांट किस जिले में स्थित है?
 (1) सीकर (2) चुरू
 (3) उदयपुर (4) उक्त कोई नहीं (3)
45. आठवीं योजना में सूरतगढ़ में किस तरह की परियोजना शुरु की गई है?
 (1) हाइड्रो पॉवर (2) प्राकृतिक गैस
 (3) थर्मल पॉवर (4) बायो गैस (3)
46. गोगामेड़ी पशु मेला कहाँ भरता है?
 (1) श्रीगंगानगर (2) हनुमानगढ़
 (3) चुरू (4) इनमें से कोई नहीं (2)
47. तेल एवं प्राकृतिक गैस विशाल मात्रा में मिला है-
 (1) उदयपुर में (2) जैसलमेर में
 (3) जालौर में (4) जोधपुर में (2)
48. ख्वाजा मुईनुद्दीन चिश्ती की दरगाह स्थित है -
 (1) जयपुर में (2) अजमेर में
 (3) श्रीगंगानगर में (4) उक्त कोई नहीं (2)
49. सरगासूली स्थित है -
 (1) अजमेर (2) जोधपुर
 (3) करौली (4) जयपुर (4)
50. निम्न में से किस जिले में कोई रेलमार्ग नहीं है?
 (1) चित्तौड़गढ़ (2) बाँसवाड़ा
 (3) पाली (4) उदयपुर (2)

मानसिक योग्यता

निर्देश : निम्नलिखित प्रश्नों में चार विकल्प दिए गए हैं। इनमें से कौनसा भिन्न है -

1. (1) सितार (2) सरोद
(3) सारंगी (4) ढोलक (4)
2. (1) मेवाड़ी (2) मालवी
(3) ढूंढाड़ी (4) मारवाड़ी (2)
3. (1) लौकी (2) अंगूर
(3) सेव (4) आम (1)
4. (1) वाणिज्यिकी (2) रसायनशास्त्र
(3) भौतिकी (4) वनस्पतिशास्त्र (1)
5. (1) गाय (2) भैंस
(3) बकरी (4) घोड़ा (4)

निर्देश : नीचे दिए गए प्रश्नों में बायीं तरफ के शब्दों में एक प्रकार का संबंध है। दाहिनी तरफ लिखे शब्द के लिए उचित विकल्प चुनिये जो बायीं तरफ लिखे शब्दों के बीच संबंध के समरूप है -

6. जन्म : मरण :: आशा : ?
(1) निराशा (2) उदासी
(3) कष्ट (4) प्रसन्नता (1)
7. दूध : दही :: तिल : ?
(1) बूरा (2) तेल (3) घी (4) गन्ना (2)
8. चूहा : बिल्ली :: बिल्ली : ?
(1) कुत्ता (2) बतख (3) मुर्गी (4) शेर (1)
9. अक्षर : शब्द :: शब्द : ?
(1) वाक्य (2) व्याकरण
(3) शब्द कोष (4) स्वर (1)
10. नवीन : पुरातन :: अज्ञान : ?
(1) मेघा (2) मोह
(3) ज्ञान (4) विद्या (3)
11. एक पंक्ति में गीता आगे से 19वें स्थान पर और पीछे से 27वें स्थान पर है तो बताइये इस पंक्ति में कुल कितनी छात्राएँ हैं?
(1) 44 (2) 17 (3) 45 (4) 48 (3)
12. अशोक और अमित फुटबॉल खेलते हैं। रामा, श्यामा और राज हॉकी खेलते हैं। बताइये कौन हॉकी नहीं खेलता?
(1) राज (2) रामा
(3) अमित (4) श्यामा (3)
13. एक कार्यालय में 60 कर्मचारी है। उनमें से आज 48 उपस्थित है तो कार्यालय में कितने प्रतिशत कर्मचारी

अनुपस्थित है?

- (1) 30 (2) 50 (3) 20 (4) 17 (3)
14. यदि आगामी कल के दो दिन बाद सोमवार हो तो विगत कल के दो दिन पूर्व कौनसा दिन था?
(1) रविवार (2) बुधवार
(3) गुरुवार (4) शुक्रवार (1)
15. गीता, सीता से बड़ी है। शीला, गीता से बड़ी है। मालती, शीला और सीता से बड़ी है। इनमें से सबसे बड़ी है -
(1) मालती (2) शीला
(3) गीता (4) सीता (1)

निर्देश : निम्न निर्देशों को पढ़कर नीचे लिखे प्रश्नों के उत्तर दें -

(i) राजू और बाबू किसी एक स्थान से चलना आरम्भ करते हैं।

(ii) राजू पश्चिम दिशा में 4 किमी चलता है।

(iii) फिर राजू दाहिने मुड़कर 3 किमी चलता है।

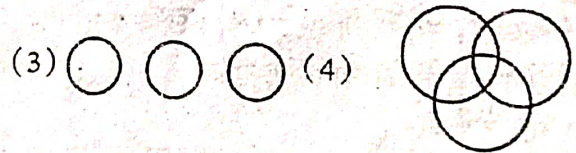
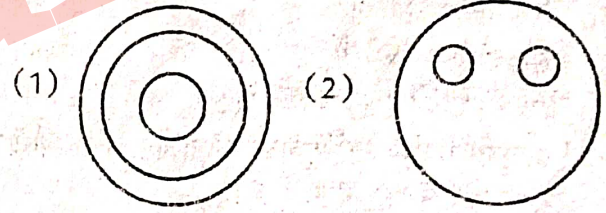
(iv) बाबू दक्षिण की ओर 3 किमी चलता है।

(v) फिर बाबू अपने बायीं ओर मुड़कर 4 किमी चलता है।

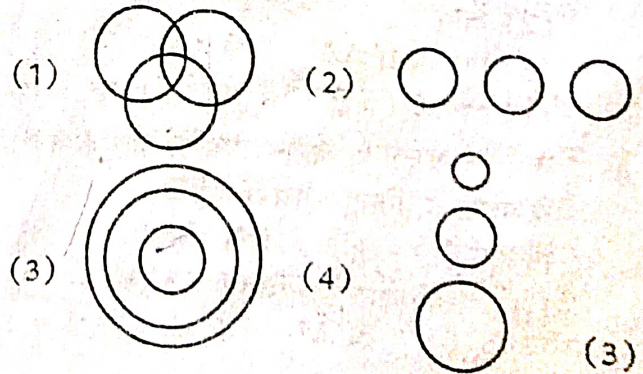
16. राजू अपने चलने के स्थान से अब कितनी दूर है?
(1) 11 किमी (2) 5 किमी
(3) 2 किमी (4) 14 किमी (2)
17. राजू अपने चलने के स्थान से अब किस दिशा में है?
(1) उत्तर-पश्चिम (2) उत्तर-पूर्व
(3) दक्षिण-पूर्व (4) दक्षिण-पश्चिम (1)
18. राजू पहली बार चल कर फिर किस दिशा की ओर मुड़ा?
(1) पश्चिम (2) दक्षिण
(3) पूर्व (4) उत्तर (4)
19. बाबू मुड़कर किस दिशा में चला?
(1) पूर्व (2) दक्षिण
(3) पश्चिम (4) उत्तर (1)
20. अब राजू बाबू से कितनी दूर है?
(1) 10 किमी (2) 6 किमी
(3) 19 किमी (4) 5 किमी (1)
21. तीन अंकों का लघुतम संख्या में 9 जोड़ने और 11 घटाने पर प्राप्त संख्या है -
(1) 101 (2) 175 (3) 997 (4) 1002 (3)
22. 36 व 56 के बीच की संख्या के पहले वाली संख्या है?
(1) 46 (2) 42 (3) 45 (4) 47 (3)

23. निम्न श्रृंखला में रिक्त स्थान भरिये -
71, 73, 76, 80, 85, ?, 98, 106, 115
(1) 19 (2) 91
(3) 81 (4) 20
24. अंग्रेजी वर्णमाला में कौनसा अक्षर आरम्भ से 13वें एवं अंत से 14वें स्थान पर है?
(1) P (2) H
(3) M (4) C
25. निम्न श्रृंखला को पूरा कीजिए -
D, F, I, ?, R, X
(1) X (2) N (3) W (4) M
26. A और B दो भाई हैं। C, A का पिता है, D, B की माता है। D की कोई बहिन नहीं किन्तु E, B की बहिन है। बताइये C का E से क्या संबंध है?
(1) चचेरा बाई (2) पिता
(3) चाचा (4) भाई
27. नीरज और धीरज भाई हैं। शैला नीरज की पत्नी है तथा राजीव शैला का पुत्र है। बताइये राजीव का धीरज से क्या रिश्ता है?
(1) फूफा (2) चाचा
(3) भाई (4) उक्त कोई नहीं
28. A, B का भाई है। C, B का पिता है। D, C का पिता है। बताइये D का A से क्या रिश्ता है?
(1) पिता-पुत्र (2) दादा-पोता
(3) भाई-भाई (4) चाचा-भतीजा
29. P, Q, R शिक्षक है। PRS इंजीनियर है। RST वकील है। PQST ईमानदार है तो कौन शिक्षक इंजीनियर और ईमानदार है?
(1) R (2) T (3) P (4) S
30. सुरेन्द्र सूर्योदय के समय सीधा खड़ा होकर उसे देख रहा है। बताइये उसका दाहिना हाथ किस दिशा में होगा?
(1) पूर्व (2) उत्तर
(3) पश्चिम (4) दक्षिण
31. काँच में घड़ी का प्रतिबिम्ब दिखाई दे रहा है। इस प्रतिबिम्ब में घड़ी 3.15 दिखा रही है। बताइये घड़ी में इस समय सही समय क्या है?
(1) 9.15 (2) 8.45
(3) 7.45 (4) 9.55

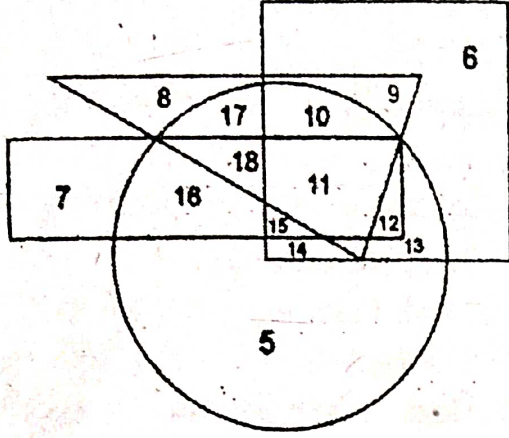
32. L, M, N, S, R एक गोलागार घेरे में इस प्रकार खड़े हैं कि S खड़ा है। N के दाहिने ओर तथा L खड़ा है R एवं S के बीच। बताइये M के बायें कौन खड़ा है?
(1) S (2) R (3) N (4) L
33. अंग्रेजी वर्णमाला में दाहिनी ओर से 13वां अक्षर है -
(1) N (2) R (3) L (4) Q
34. अक्षरों का कौनसा समूह रिक्त स्थानों की क्रमवार पूर्ति करेगा-
KLLK LKKL KK LK
(1) MLKGL (2) XXKLLF
(3) KLKK (4) MMMM
35. 49, 64, 81, 100, 122, 144, 169 संख्या श्रेणी में एक पद गलत है, उसे छांटिए -
(1) 122 (2) 95 (3) 81 (4) 123
36. यदि किसी सांकेतिक भाषा में ELECTION को HOHFXLRQ लिखा जाता है तो उसी भाषा में SELECTION को लिखा जाएगा -
(1) WXJGKGQRL (2) VHOHFWLRQ
(3) KDIGIODJFDK (4) VOHHHQHL
37. निम्न में से कौनसा चित्र प्राणियों, पशुओं एवं पक्षियों के मध्य संबंध को सही प्रदर्शित करता है?



38. कौनसा चित्र व्यक्ति, परिवार एवं समाज के संबंध में सही प्रकार प्रदर्शित करता है?



निर्देश : नीचे दी गई आकृति में यदि वृत्त ग्रामीणों, वर्ग युवाओं, आयत शिक्षितों एवं त्रिभुज ईमानदारों को दर्शाता है, तो निम्न प्रश्नों के उत्तर दें -



39. आकृति में शिक्षित युवाओं जो ग्रामीण भी है, को दर्शाने वाली संख्या है -

- (1) 8 (2) 12 (3) 10 (4) 7 (2)

40. आकृति में शिक्षित ईमानदार व्यक्ति जो ग्रामीण भी है, को दर्शाने वाली संख्या है -

- (1) 5 (2) 9 (3) 10 (4) 18 (4)

41. आकृति में शिक्षित ग्रामीण व्यक्ति जो युवा नहीं है, को दर्शाने वाली संख्या है -

- (1) 10 (2) 5 (3) 7 (4) 16 (4)

42. आकृति में शिक्षित ग्रामीण, युवा, ईमानदार को दर्शाने वाली संख्या है -

- (1) 7 (2) 11 (3) 10 (4) 9 (2)

43. आकृति में ईमानदार युवाओं को दर्शाने वाली संख्या है -

- (1) 9 (2) 5 (3) 8 (4) 6 (1)

निर्देश - निम्न प्रश्नों में एक कथन दिया गया है। उसके बाद दो निष्कर्ष। उसके आधार पर सही निष्कर्ष चुनिये -

44. कथन-सभी अध्यापक शिक्षित है एवं कुछ अध्यापक महिलाएँ हैं -

निष्कर्ष (I) - सभी अध्यापक महिलाएँ हैं।

(II) कुछ महिलाएँ शिक्षित हैं।

(1) निष्कर्ष I व II दोनों गलत

(2) निष्कर्ष I व II दोनों सही

(3) निष्कर्ष II सही

(4) निष्कर्ष I सही (3)

45. कथन - कंपनी के अधिकारी हवाई यात्रा करते हैं। जबकि वे महंगी है, किन्तु समय बचाती है।

निष्कर्ष (I) - अधिकारी कंपनी का पैसा बर्बाद करते हैं।

(II) - अधिकारी समय को पैसे से अधिक महत्व देते हैं।

(1) निष्कर्ष I व II दोनों गलत

(2) निष्कर्ष I व II दोनों सही

(3) निष्कर्ष II सही

(4) निष्कर्ष I सही (3)

46. कथन - जातियाँ देवीय विधान नहीं है, लेकिन वे मानव संगठनों की उपज है।

निष्कर्ष (I) - जातियाँ मानवीय रचना है।

(II) - जातियाँ देवीय रचना है।

(1) निष्कर्ष I व II दोनों गलत

(2) निष्कर्ष I व II दोनों सही

(3) निष्कर्ष II सही

(4) निष्कर्ष I सही (4)

47. कथन - राजनैतिक नैतिकता एक नैसर्गिक भावना नहीं है।

निष्कर्ष (I) - राजनैतिक नैतिकता सीखी जाती है।

(II) - भावनाएँ सहज है।

(1) निष्कर्ष I व II दोनों गलत

(2) निष्कर्ष I व II दोनों सही

(3) निष्कर्ष II सही

(4) निष्कर्ष I सही (4)

48. सभी पुत्रियाँ महिलाएँ हैं। कुछ महिलाएँ माताएँ हैं। उक्त कथनों से कौनसा निष्कर्ष तर्कतः निकलता है -

(1) सभी पुत्रियाँ माताएँ है

(2) सभी महिलाएँ माताएँ है

(3) कुछ माताएँ महिलाएँ है

(4) कुछ पुत्रियाँ माताएँ है (4)

49. सभी शिक्षक विद्वान है। यदि यह तर्क वाक्य सत्य है तो निम्न में से कौनसा तर्क वाक्य सत्य है?

(1) कुछ शिक्षक विद्वान नहीं है

(2) कुछ शिक्षक विद्वान है

(3) कोई भी शिक्षक विद्वान नहीं है

(4) यदि कोई शिक्षक है तो वह विद्वान है (4)

50. सभी धर्म अहिंसा की शिक्षा देते हैं। यदि यह एक सत्य तर्क वाक्य है तो निम्न में से कौनसा निष्कर्ष तर्कतः सत्य है?

(1) कुछ धर्म अहिंसा की शिक्षा देते हैं

(2) कुछ धर्म हिंसा की शिक्षा देते हैं

(3) कोई धर्म अहिंसा की शिक्षा नहीं देता

(4) कोई शिक्षा, जो हिंसा सीखाती है, धार्मिक शिक्षा नहीं हो सकती। (4)

भाषा योग्यता

हिन्दी

1. ईश्वर में विश्वास करने वाले को कहा जाता है?
 - (1) आस्तिक (2) नास्तिक
 - (3) भक्त (4) उक्त कोई नहीं (1)
2. प्रत्युपकार शब्द में कौनसा उपसर्ग है?
 - (1) प्र (2) प्रत्यु
 - (3) परि (4) प्रति (4)
3. मुख शब्द में सम उपसर्ग लगाने से बनेगा?
 - (1) संमुख (2) सम्मुख
 - (3) षडमुख (4) सनममुख (2)
4. लम्बोदर में कौनसा समास है?
 - (1) तत्पुरुष (2) बहुब्रीहि
 - (3) द्विगु (4) कर्मधारय (2)
5. देवालय में कौनसा समास है?
 - (1) तत्पुरुष (2) बहुब्रीहि
 - (3) द्विगु (4) इनमें से कोई नहीं (1)
6. सूरज का पर्यायवाची है -
 - (1) अंशुमाली (2) आदित्य
 - (3) भास्कर (4) उक्त सभी (4)
7. दास का समानार्थी है -
 - (1) किन्नर (2) सेवक
 - (3) नायक (4) इनमें से कोई नहीं (2)
8. नैसर्गिक का विलोम है-
 - (1) सामयिक (2) कृत्रिम
 - (3) चमत्कार (4) उक्त कोई नहीं (2)
9. ऊँची दुकान फीका पकवान मुहावरे का अर्थ है-
 - (1) पकवान फीका होना
 - (2) बिना लाभ के काम करना
 - (3) आडम्बर अधिक, वास्तविकता कम
 - (4) उपरोक्त सभी (3)
10. बहती गंगा में हाथ धोना का सही अर्थ है -
 - (1) समय का लाभ उठाना (2) नहाना
 - (3) समुद्र में तैरना (4) पूजा करना (1)
11. आधुनिक का विलोम है -
 - (1) प्राचीन (2) वर्तमान
 - (3) समीचीन (4) निर्वाचित (1)
12. भोला का विलोम है -
 - (1) चालाक (2) तेजस्वी
 - (3) बुद्धिमान (4) चंचल (1)
13. गंगा का पर्यायवाची है -
 - (1) भैरवी (2) सुरसरि
 - (3) अम्बिका (4) उक्त कोई नहीं (2)
14. कौनसी कहावत प्रचलित है -
 - (1) चोर-चोर चचेरे भाई
 - (2) चचेरे भाई चोर-चोर
 - (3) चोर-चोर मौसेरे भाई
 - (4) इनमें से कोई नहीं (3)
15. आग में घी डालना का अर्थ है -
 - (1) क्रोध में पागल हो जाना
 - (2) क्रोध को और अधिक भड़काना
 - (3) हवन करना
 - (4) इनमें से कोई नहीं (2)
16. पूर्ण विराम का चिह्न है -
 - (1) । (2) ! (3) ? (4) ; (1)
17. खरा-खोटा शब्द में कौनसा समास है?
 - (1) द्वंद्व (2) द्विगु
 - (3) कर्मधारय (4) बहुब्रीहि (1)
18. विराम चिह्न लगाने से -
 - (1) भाषा में सुन्दरता आती है
 - (2) भाषा में स्पष्टता आती है
 - (3) भाषा के भाव को समझने में सरलता रहती है
 - (4) उक्त सभी (4)
19. कीर्ति शब्द का सही अर्थ है?
 - (1) यश (2) रचना
 - (3) कीर्तन (4) निपुण (1)
20. मुँह में राम बगल में छुरी का प्रयोग होता है?
 - (1) कपटी के लिए (2) ठग के लिए
 - (3) शैतान के लिए (4) उक्त कोई नहीं (1)
21. कौनसा शब्द शुद्ध है?
 - (1) भागीरथि (2) भगिरथी
 - (3) भागीरथी (4) भगोरथी (3)
22. फाग का अर्थ व्यक्त करने के लिए कौनसा शब्द शुद्ध है?
 - (1) आग (2) होली
 - (3) मल्हार (4) शास्त्रीय संगीत (2)
23. सरल का विलोम है -
 - (1) कठोर (2) सीधा
 - (3) कठिन (4) उक्त कोई नहीं (3)
24. अव्ययी भाव समास का सही उदाहरण है -
 - (1) धीरे-धीरे (2) नील-कमल
 - (3) चौराहा (4) माता-पिता (1)

25. जिसके समान संसार में कोई दूसरा न हो, के लिए एक शब्द है -
 (1) नास्तिक (2) असमान
 (3) अद्वितीय (4) उक्त कोई नहीं (3)
26. असुर का समानार्थी है -
 (1) पापी (2) भूत
 (3) राक्षस (4) पिशाच (3)
27. महेन्द्र का संधि विच्छेद है -
 (1) मही + इन्द्र (2) महो + इन्द्र
 (3) महा + इन्द्र (4) उक्त कोई नहीं (3)
28. यद्यपि का संधि विच्छेद है -
 (1) यदि + अपि (2) यद् + द्यपि
 (3) यद्यि + अपि (4) यद् + अपि (1)
29. वैज्ञानिक शब्द किस प्रत्यय से बना है?
 (1) निक (2) अक
 (3) इक (4) क (3)
30. पढ़ाई शब्द में प्रत्यय है -
 (1) आई (2) ईय
 (3) इ (4) उक्त कोई नहीं (1)

संस्कृत

1. धेनु शब्दस्य तृतीया विभक्ति एकवचने रूपं भवति -
 (1) धेनवः (2) धेनवैः
 (3) धेन्वा (4) उक्त कोई नहीं (3)
2. सुरेन्द्र इतिपदे संधि अस्ति -
 (1) अयादि संधिः (2) यण संधिः
 (3) दीर्घ संधिः (4) गुण संधिः (4)
3. तत् + टीका = तट्टीका इत्यत्र संधि वर्तते -
 (1) श्चुत्व संधिः (2) ठटुत्व संधिः
 (3) जशत्वसंधिः (4) उक्त कोई नहीं (1)
4. पञ्चपात्रम् इतिपदे समासः अस्ति -
 (1) कर्मधारयः समासः (2) द्विगुसमासः
 (3) बहुब्रीहि समासः (4) उक्त कोई नहीं (2)
5. कृष्णसर्पः इति पदे कः समासः भवति?
 (1) अव्ययी भाव समासः (2) कर्मधारय समासः
 (3) द्विगुसमासः (4) तत्पुरुष समासः (2)
6. भू धातो लट्लकारे उत्तम पुरुष बहुवचने पदं भवति-
 (1) भवसि (2) भवामि
 (3) भवति (4) भवामः (4)
7. सर्वशब्दस्य सर्वस्मै इति रूपं जायते -
 (1) चतुर्थी एकवचने (2) प्रथमा एकवचने
 (3) पंचमी एकवचने (4) उक्त कोई नहीं (1)
8. हरि शब्दस्य पंचमी विभक्ति एकवचनम् रूपं अस्ति-
 (1) हरेः (2) हरौ
 (3) हरिः (4) हरयः (1)
9. पठ धातोः विधिलिङ्लकारे मध्यपुरुष बहुवचने रूपं भवति-
 (1) पठेतुः (2) पठेत
 (3) पठेमा (4) उक्त कोई नहीं (4)
10. अभितः परितः समया निकषा हा प्रतियोगे का विभक्तिः भवति?
 (1) तृतीया (2) प्रथमा
 (3) द्वितीया (4) चतुर्थी (3)
11. पिता पुत्रम् कुध्यति। वाक्येस्मिन् रेखांकित पदस्थाने केन समुचितपदेन संशोधनं भवति?
 (1) पुत्राय (2) पुत्रेण
 (3) पुत्रस्य (4) इनमें से कोई नहीं (1)
12. परीक्षां दातुं देवदत्तः कुत्रः गतः इति रेखांकित पद का प्रत्ययः वर्तते?
 (1) शत् (2) तुमुन्
 (3) क्तवतु (4) क्त (4)
13. ल्युट् प्रत्ययस्य उदाहरणमस्ति?
 (1) लिखन् (2) करणम्
 (3) कर्ता (4) इनमें से कोई नहीं (1)
14. प्रातिपदिकार्थमात्रे विभक्तिः भवति?
 (1) चतुर्थी (2) द्वितीया
 (3) तृतीया (4) प्रथमा (4)
15. अपादाने विभक्तिः भवति?
 (1) पंचमी (2) षष्ठी
 (3) तृतीया (4) इनमें से कोई नहीं (1)
16. संस्कृत साहित्ये इति पदे समासः भवति?
 (1) तत्पुरुष समासः (2) द्विगु समासः
 (3) बहुब्रीहि समासः (4) कर्मधारय समासः (1)
17. तव + औदार्यम् = तवौदार्यम् इत्यत्र संधे किं नमास्ति?
 (1) यण् संधिः (2) वृद्धि संधिः
 (3) दीर्घ संधिः (4) उक्त कोई नहीं (2)
18. कविभिः कालिदासः श्रेष्ठः। इदं वाक्यं रेखांकित पदस्थाने केन समुचित पदेन संशोधितं भवति?
 (1) कविभ्यः (2) कविषु
 (3) कविस्य (4) कवयः (2)

19. व्याघ्रिव तिष्ठति जरा परितर्जयन्ति। इति वाक्ये रेखांकित पदे प्रयुक्तं लकारं भवति -
 (1) विधिलिङ् लकार (2) लट् लकार
 (3) लृट् लकार (4) उक्त कोई नहीं (2)
20. सत्यान् प्रमदितव्यम्। इति रेखांकितपदे प्रत्ययः भवति-
 (1) तरप् (2) तव्यत्
 (3) क्तवा (4) ल्यप् (2)
21. तथास्तु इति पदे संधि विच्छेद भवति -
 (1) तथा + आस्तु (2) तथा + तु
 (3) तथा + अस्तु (4) तथ + अस्तु (3)
22. सर्वे भद्राणि पश्यन्तु। इति रेखांकित पदे प्रयुक्तलकार भवति-
 (1) लङ् लकार (2) लट् लकार
 (3) लोट् लकार (4) लृट् लकार (3)
23. रामः जलं पिबेत्। इति रेखांकितपदे प्रयुक्त लकार भवति-
 (1) विधिलिङ् लकार (2) लट् लकार
 (3) लोट् लकार (4) उक्त कोई नहीं (1)
24. स्वराः कति भवति?
 (1) त्रयोदश (2) चतुर्दश
 (3) पञ्चदश (4) षोडशः (1)
25. व्यंजना कति भवति?
 (1) द्वात्रिंशत् (2) एकत्रिंशत्
 (3) चतुस्त्रिंशत् (4) त्रयस्त्रिंशत् (4)
26. संस्कृते कारकाणि कति संति?
 (1) चत्वारि (2) अष्ट
 (3) षट् (4) उक्त कोई नहीं (3)
27. विसर्गस्य उच्चारणस्थानम् भवति?
 (1) तालुः (2) कंठः
 (3) ओष्ठौ (4) मूर्धा (2)
28. नासिका उच्चारणस्थानम् भवति-
 (1) पवर्गस्य (2) अनुस्वारस्य
 (3) वकारस्य (4) उक्त कोई नहीं (2)
29. अकारान्त राम शब्दस्य चतुर्थैकवचने रूपं भवति?
 (1) रामेण (2) रामाय
 (3) रामम् (4) रामात् (2)
30. लता शब्दस्य तृतीयैकवचने रूपं भवति-
 (1) लतया (2) लतायाः
 (3) लताम् (4) उक्त कोई नहीं (1)

ENGLISH

31. Choose the phrase which best completes the sentence. Having a hobby is the best way.....
 (1) to be lazy (2) to relax
 (3) to have leisure (4) none of these (2)
32. Pick out the most appropriate synonym of the given key word. Access
 (1) An addition (2) Means of entering
 (3) Large surplus (4) none of these (2)
33. Choose the word with the correct spelling.
 (1) Restaurant (2) Restaurent
 (3) Restorent (4) None of these (1)
34. Choose the alternative which means the same as the given key word.
Druggist
 (1) Dealer in intoxicants
 (2) One who sells opium
 (3) Person qualified to sell drugs (3)
 (4) none of these
35. Choose the correct alternative which substitutes the given word.
Ineligible
 (1) That cannot be read
 (2) Not qualified
 (3) Not lawful
 (4) none of these (2)
36. Choose from the list below the prefix missing from the word in brackets in the following sentence.
 You can't wear this dress to a party. It is old and (Coloured)
 (1) un..... (2) dis.....
 (3) re..... (4) none of these (2)
37. Choose the correct phrase to complete the sentence grammatically. They were talking very loudly. I couldn't help.....them.
 (1) to overhear (2) to overhearing
 (3) over hearing (4) none of these (3)
38. Fill in the word that best fits the context in the given sentence.
 She is fond of me but.....visits me.
 (1) seldom (2) often
 (3) frequently (4) none of these (1)

39. Choose the correct helping verb to complete the sentence grammatically, The Population of the world.....risen very fast.
 (1) have (2) has
 (3) were (4) none of these (2)
40. Choose the phrase which best completes the sentence.
 He has had to smoking since his illness.
 (1) cut out (2) cut down
 (3) Cut off (4) none of these (2)
41. Choose the correct alternative to complete the sentence.
 The man..... I was sitting next to on the plane talked all the time.
 (1) whom (2) that
 (3) who (4) whose (1)
42. Fill in the blank with the correct connective .
 all our careful plans, a lot of things went wrong.
 (1) Although (2) in spite of
 (3) Because of (4) none of these(2)
43. Choose the correct preposition to complete the sentence. She is not well. She often suffers..... very bad headaches.
 (1) in (2) from
 (3) on (4) none of these(2)
44. Choose the word that best completes the given sentence.
 My companion was a very..... fellow who bored me with his endless chatter.
 (1) tiring (2) tireless
 (3) tiresome (4) none of these (3)
45. Pick out of correct alternative to complete the sentence grammatically. she is injured, she should win easily.
 (1) As long as (2) Unless
 (3) Supposing (4) none of these (2)
46. Complete the sentence with the appropriate form of the adjective already used in the sentence. Both Hema and Seema are good at dancing. But Seema is..... of the two.
 (1) the most good (2) the better
 (3) the best (4) none of these (2)
47. Correct the underlined part in the given sentence by choosing the most appropriate alternative. I prefer riding on walking.
 (1) ride on walk (2) riding from walking
 (3) riding to walking (4) none of these (3)
48. Pick out the most appropriate antonym of the given key word. Strange.
 (1) Familiar (2) Similar
 (3) Friendly (4) none of these (1)
49. Pick up the most appropriate synonym of the given key word.
 Err
 (1) to become confused
 (2) to delay
 (3) to make a mistake
 (4) to waver (3)
50. Choose the word with the correct spelling.
 (1) seperate (2) seprate
 (3) seprate (4) Separate (4)

शिक्षक अभिवृत्ति

1. समाज में हो रहे नैतिक पतन को रोकने के लिए सर्वश्रेष्ठ विकल्प है-
 (1) शिक्षक द्वारा सदाचरण (2) कठोर दंड
 (3) नैतिक शिक्षा (4) उक्त कोई नहीं (3)
2. छात्रों द्वारा छात्रसंघ के चुनाव कराने का दबाव पड़ने पर प्राचार्य के रूप में आप करेंगे?
 (1) चुनाव नहीं होने देंगे
 (2) उनकी समस्याओं को जान कर समाधान का प्रयास करेंगे
 (3) तटस्थ रहेंगे
 (4) इनमें से कोई नहीं (2)
3. आपकी पुत्री का विवाह होने को है, वरपक्ष आपसे दहेज की मांग करता है, ऐसी स्थिति में आप -
 (1) उनके सामने गिड़गिड़ायेंगे
 (2) ऋण लेकर दहेज की मांग पूरी करेंगे
 (3) दहेज की मांग नहीं करने के लिए उन्हें समझाने का प्रयास करेंगे
 (4) अन्य लड़के से उसकी शादी करने पर विचार करेंगे (4)

- समाज में प्रतिष्ठा का आधार धन होता है, यह -
 (1) अज्ञात है (2) असत्य है
 (3) पूर्ण सत्य है (4) आंशिक सत्य है (4)
- शिक्षक का दायित्व है -
 (1) केवल विद्यालय के प्रति
 (2) केवल स्वयं के प्रति
 (3) विद्यालय एवं समाज के प्रति
 (4) इनमें से कोई नहीं (3)
- शिक्षक समाज के परिवर्तन का मुख्य घटक है, यह कथन है -
 (1) असत्य (2) पूर्ण सत्य
 (3) आंशिक सत्य (4) कुछ नहीं कर सकते (2)
- छात्रों में सामाजिकता के विकास का दायित्व विद्यालय पर आ गया है, क्योंकि -
 (1) छात्रों में सामाजिक विकास की प्रवृत्ति बदल गई है
 (2) परिवार बहुत छोटे और एकाकी हो गये हैं
 (3) व्यक्तियों में एकाकी रहने की प्रवृत्ति बढ़ी है
 (4) इनमें से कोई नहीं (2)
- आपके घर में मेहमान आने पर -
 (1) आप क्रोधित होंगे
 (2) आप अपनी सामर्थ्य से बढ़कर दिखावा करेंगे
 (3) आप यथाशक्ति उचित सत्कार करेंगे
 (4) आप उदासीनता दिखायेंगे (3)
- एक नेता के रूप में शिक्षक का कक्षा में व्यवहार होना चाहिए?
 (1) नकारात्मक (2) कठोरतापूर्ण
 (3) नीरसतापूर्ण (4) उत्साहपूर्ण (4)
- हमारा मस्तिष्क हमारी समस्त शारीरिक एवं मानसिक क्रियाओं को नियंत्रित करता है -
 (1) हाँ (2) कभी-कभी
 (3) कभी नहीं (4) संभवतः (1)
- किसी सामूहिक लक्ष्य की प्राप्ति के लिए नेतृत्व का होना आवश्यक है -
 (1) प्रायः (2) हाँ
 (3) कदापि नहीं (4) कह नहीं सकते (2)
- नेता अपने समुदाय का होता है -
 (1) स्वामी (2) शोषक
 (3) प्रतिनिधि (4) उक्त कोई नहीं (3)
- अच्छे नेता का महत्त्वपूर्ण कार्य है -
 (1) सभी कार्य स्वयं करना
 (2) अधिकतम धन कमाना
 (3) नीति निर्माण व योजना बनाकर प्रयास करना
 (4) अपने पद को यथावत बनाये रखना (3)
14. महाना गांधी स्वतंत्रता संग्राम में जिस गुण के कारण देश के नेता बने, वह था -
 (1) अंग्रेजी की विरोधी भावना
 (2) दृढ़ संकल्प शक्ति
 (3) सुन्दर व्यक्तित्व
 (4) इनमें से कोई नहीं (2)
15. विद्यार्थियों में नेतृत्व के गुणों का विकास इसलिए किया जाता है, क्योंकि वे -
 (1) भविष्य में नेता बन सके
 (2) व्यक्तित्व का विकास कर सके
 (3) जनता को मूर्ख बना सके
 (4) मित्रता की भावना बढ़ा सके (2)
16. शिक्षक की रुचि का अध्यापन कार्य में महत्त्व है -
 (1) कुछ नहीं (2) कम
 (3) बहुत कम (4) बहुत अधिक (4)
17. एक शिक्षक के लिए सफल शिक्षण कार्य हेतु जरूरी है -
 (1) विषय पर पकड़ (2) धन दौलत
 (3) अच्छी वेशभूषा (4) उक्त कोई नहीं (1)
18. छात्र के व्यावसायिक चयन पर उसके माता-पिता का प्रभाव भी पड़ता है -
 (1) समाज में उनके पद का
 (2) उनके व्यवहार का
 (3) उनकी आदतों का
 (4) उनकी शिक्षा का (4)
19. एक शिक्षक के रूप में आप शिक्षण कार्य के अलावा अपनी रुचि के अनुसार अन्य कार्य करना -
 (1) पसंद नहीं करेंगे (2) अपमान समझेंगे
 (3) पसंद करेंगे (4) उक्त कोई नहीं (3)
20. छात्रों के विकास में सर्वाधिक भूमिका होती है -
 (1) विशाल क्रीडास्थल की
 (2) अच्छी पुस्तकों की
 (3) समर्पित शिक्षकों की
 (4) इनमें से कोई नहीं (3)
21. शिक्षकों द्वारा प्राइवेट ट्यूशन करने के सन्दर्भ में आपका विचार है कि -
 (1) प्राइवेट ट्यूशन पर रोक लगा देनी चाहिए
 (2) प्राइवेट ट्यूशन केवल विशेष परिस्थितियों में ही की जाये
 (3) इस पर कोई रोक नहीं होनी चाहिए
 (4) इसे कानून बनाकर दंडनीय कर देना चाहिए (2)

22. बी.एस.टी.सी. प्रवेश परीक्षा देने का आपका मुख्य उद्देश्य है -

- (1) समय पास करना
- (2) नौकरी पाने का प्रयास
- (3) प्रतियोगी परीक्षा का अभ्यास करना
- (4) अध्यापन कार्य के प्रति रुचि (4)

23. शिक्षक प्रशिक्षण का मूलभूत उद्देश्य है-

- (1) छात्रों को पहचानने की योग्यता विकसित करना
- (2) शिक्षकों में आवश्यक कौशल विकसित करना
- (3) शिक्षकों की बढ़ती माँग की पूर्ति करना
- (4) इनमें से कोई नहीं (2)

24. छात्रों में अनुशासनहीनता के निराकरण का श्रेष्ठ उपाय है-

- (1) छात्रों में भयमुक्त वातावरण बनाना
- (2) छात्रों की समस्याओं से अवगत होना
- (3) छात्रों से सीधे संपर्क स्थापित कर अनुशासनहीनता के कारणों को मालूम करना
- (4) छात्रों को कठोरता से दंडित करना (3)

25. आपकी कक्षा में कुछ उदंड छात्र हैं। आप उनके साथ किस प्रकार के संबंध रखना चाहोगे?

- (1) अनजान (2) निष्पक्ष
- (3) तटस्थ (4) उक्त कोई नहीं (2)

26. यदि आप अपने विद्यालय के छात्रावास वार्डन हैं तो आप अनुशासन कैसे स्थापित करेंगे?

- (1) छात्रों के साथ संवाद स्थापित करके
- (2) अचानक निरीक्षण द्वारा
- (3) परिस्थितियों के अनुसार
- (4) कठोर दंडात्मक रूख अपनाकर (1)

27. प्राचार्य तथा अन्य शिक्षकों के मध्य जो संबंध होते हैं, उस पर विद्यालय का संपूर्ण वातावरण निर्भर करता है?

- (1) प्रायः (2) संभवतः
- (3) कभी नहीं (4) सदैव (4)

28. अपने पड़ोसी से संबंध तोड़कर ही सुखी जीवन व्यतीत किया जा सकता है -

- (1) बिल्कुल नहीं (2) कभी नहीं
- (3) कभी-कभी (4) उक्त कोई नहीं (1)

29. कक्षा में अच्छे वातावरण के लिए आवश्यक है कि-

- (1) छात्र शांति से बैठे रहें
- (2) छात्रों का मनोरंजन होता रहे

(3) छात्र शिक्षक से भयभीत रहें

(4) अध्यापक एवं छात्रों के मध्य सौहार्द्रपूर्ण संबंध हो

30. आप एक अध्यापक हैं। आपकी सहयोगी अध्यापिका साथ आपका व्यवहार होगा -

- (1) विशेष (2) कठोर
- (3) अनिश्चित (4) सामान्य

31. देश की उन्नति तभी संभव है जब प्रत्येक नागरिक जा धर्म, क्षेत्र एवं भाषा की संकीर्णता से दूर होकर कार्य व आप इस कथन से कहाँ तक सहमत हैं -

- (1) पूर्णतः सहमत (2) आंशिक सहमत
- (3) आंशिक असहमत (4) उक्त कोई नहीं

32. सम्प्रेषण कौशल अर्जित किया जा सकता है। कथन है-

- (1) असत्य (2) सत्य
- (3) अव्यावहारिक (4) असंभव

33. जटिल वाक्य तथा नकारात्मक भाषा विचार सम्प्रेषण बनाते हैं -

- (1) सरल (2) कठिन
- (3) प्रभावी (4) अप्रभावी

34. एक शिक्षक के लिए अध्यापन कार्य जितना महत्वपूर्ण छात्रों के लिए पूछे गए प्रश्नों के उत्तर देना भी उतना महत्वपूर्ण है। आप इस कथन से कहाँ तक सहमत हैं-

- (1) पूर्णतः सहमत (2) पूर्णतः असहमत
- (3) आंशिक असहमत (4) आंशिक सहमत

35. शिक्षक को अपने व्याख्यान को रोचक तथा ज्ञानवर्धक व के लिए इनका प्रयोग करना चाहिए -

- (1) जटिल शब्दों का (2) प्रश्नों का
- (3) चुटकलों का (4) उदाहरणों का

36. प्राथमिक कक्षाओं में प्रायः सम्प्रेषण होना चाहिए-

- (1) अंग्रेजी में (2) राष्ट्रभाषा में
- (3) विदेशी भाषा में (4) मातृभाषा में

37. एक शिक्षक को अपने सार्थक सम्प्रेषण में आत्म संतोष होता है। क्या आप इस कथन से सहमत हैं?

- (1) कभी नहीं (2) हाँ
- (3) नहीं (4) उक्त कोई नहीं

38. सम्प्रेषण कला में सभी में दक्षता समान रूप से पाई जाती

- (1) हाँ (2) नहीं
- (3) संभवतः (4) कभी-कभी

39. शैक्षिक प्रौद्योगिकी शिक्षक की सहायता करती है?
- (1) कालांश पूरा करने में
 - (2) काम बढ़ाने में
 - (3) मनोरंजन करने में
 - (4) शिक्षण प्रभावी बनाने में (4)
40. सम्प्रेषण कला में दक्षता की सर्वाधिक आवश्यकता किसको होती है?
- (1) शिक्षक (2) किसान
 - (3) डॉक्टर (4) शिक्षार्थी (1)
41. आप एक टीचर हैं। मध्याह्न अवकाश में आप यदि अपने साथियों के साथ चायपान करते हैं तो उस समय आपका लक्ष्य होना चाहिए -
- (1) चायपान व्यवस्था का निरीक्षण करना
 - (2) विद्यालय संबंधी विभिन्न समस्याओं पर विचार विमर्श करना
 - (3) साथियों की आलोचना करना
 - (4) इनमें से कोई नहीं (2)
42. जनचेतना उत्पन्न करने हेतु अध्यापक को चाहिए कि-
- (1) जन चेतना पर लेख प्रकाशित कराये
 - (2) जन चेतना पर अनेक व्याख्यान दे
 - (3) सामाजिक कार्यों में सक्रिय रहे
 - (4) जन मानस से बिल्कुल दूर रहे (3)
43. मताधिकार की आयु कम हो जाने पर शिक्षार्थियों में चेतना-
- (1) बहुत घटी है (2) घटी है
 - (3) बढ़ी है (4) कोई प्रभाव नहीं (3)
44. यदि आप कोई त्रुटि करते हैं तो आप -
- (1) दोबारा त्रुटि नहीं करेंगे
 - (2) उसकी परवाह नहीं करेंगे
 - (3) अन्य लोगों के दबाव में त्रुटि स्वीकार करेंगे
 - (4) अपनी त्रुटि स्वीकार कर क्षमा माँग लेंगे (4)
45. परिवार, समाज तथा राष्ट्र के संपूर्ण विकास के लिए-
- (1) छात्राओं की शिक्षा अधिक आवश्यक है
 - (2) छात्रों की शिक्षा अधिक आवश्यक है
 - (3) किसी को शिक्षा की आवश्यकता नहीं है
 - (4) दोनों की शिक्षा आवश्यक है (4)
46. शिक्षक को अपने शिक्षण कार्य के अलावा विद्यार्थियों के स्वास्थ्य के संबंध में भी सजग रहना चाहिए। इस कथन से आप -
- (1) पूर्णतः सहमत हैं
 - (2) आंशिक सहमत हैं
 - (3) अविदित है
 - (4) इनमें से कोई नहीं (1)
47. लक्ष्य प्रधान सम्प्रेषण ही सार्थक होता है। क्या आप इस कथन से -
- (1) पूर्णतः सहमत हैं
 - (2) आंशिक सहमत हैं
 - (3) आंशिक असहमत हैं
 - (4) इनमें से कोई नहीं (1)
48. अध्यापक को अपने विद्यार्थियों को सजाज में उचित स्थान दिलवाने हेतु क्या करना चाहिए -
- (1) उन्हें अनुशासित बनाये
 - (2) उनमें सामाजिक दृष्टिकोण का विकास करे
 - (3) अधिक शिक्षण कराये
 - (4) परिवार व समाज की सम्पूर्ण जानकारी एवं पृष्ठ-भूमि बताये (2)
49. आपके मतानुसार एक अच्छा शिक्षक माना जाता है जो विद्यार्थियों -
- (1) में उच्च आदर्शों का अनुकरण करने की प्रकृति का विकास कर सके
 - (2) को आज्ञाकारी बनाये
 - (3) को ट्यूशन के लिए प्रेरित कर सके
 - (4) छात्रों में स्वतंत्र चिन्तन पैदा करने की क्षमता रखता हो (4)
50. आपके मतानुसार "सेवारत शिक्षक प्रशिक्षण कार्यक्रम" अभिमुखीकरण का अच्छा उपाय है। यह कथन है -
- (1) अनिश्चित (2) असत्य
 - (3) सत्य (4) आंशिक सत्य (3)